

Karta pracy nr 1

Klasa 2 - maj - blok 1 - dzień 4

Zadanie 1

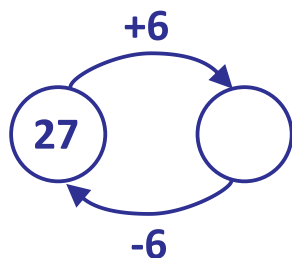
Oblicz:

$7 + 5 =$	$8 + 4 =$	$9 + 3 =$
$17 + 5 =$	$18 + 4 =$	$19 + 3 =$
$37 + 5 =$	$38 + 4 =$	$29 + 3 =$
$57 + 5 =$	$58 + 4 =$	$58 + 3 =$



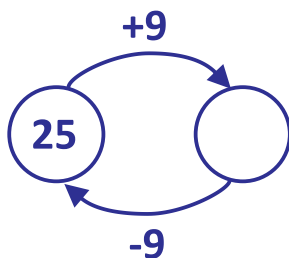
Zadanie 2

Uzupełnij grafy. Zapisz działania pod grafami.



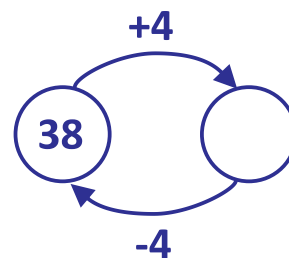
$$27 + 6 = \square$$

$$33 - 6 = \square$$



$$25 + 9 = \square$$

$$\square - \square = \square$$




$$\square + \square = \square$$


$$\square - \square = \square$$

Zadanie 3


Wpisz godziny, w których wykonujesz następujące czynności w ciągu dnia. Narysuj wskazówki na zegarach, aby wskazywały zapisaną godzinę.




Wstaję o




Kończę lekcje o




Jem kolację o



Lekcje zaczynam o



Jem obiad o



Idę spać o

Karta pracy nr 1

Klasa 2 - maj - blok 1 - dzień 4

Odpowiedz na pytania:



1) Ile godzin spędzasz w szkole?

2) Ile czasu upływa między obiadem, a kolacją?

3) Ile godzin mija od Twojej pobudki do pójścia spać?

4) O co możesz jeszcze zapytać?
